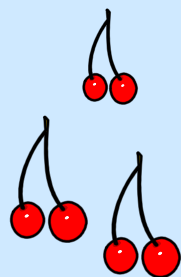





INVESTICE DO ROZVOJE VZDĚLÁVÁNÍ

Základní škola T. G. Masaryka, Studénka, ul. 2. května 500, okres Nový Jičín	
Číslo projektu: CZ.1.07/1.4.00/21.1489	Označení vzdělávacího materiálu: VY_32_INOVACE_MA1A.1.12
Autor: Mgr. Stanislava Figallová	Vzdělávací oblast: Matematika a její aplikace
Předmět: Matematika a její aplikace	Ročník: 1.
Téma hodiny: Numerace 1 - 9, tvoření příkladů, přiřazování předmětů k číslům	
Využití vzdělávacího materiálu: Využití numerace v praktických situacích	
Ověření ve výuce	
Datum: 16.2.2012	Třída: I.

PŘIŘAĎ OBRÁZKY K ČÍSLŮM



0

1

2

3

4

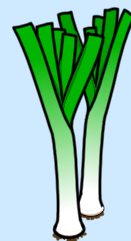

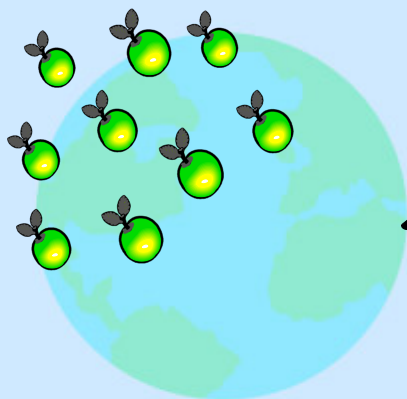
5

6

7

8

9



Oprav příklady od Petra a Jany. Kdo z nich udělal méně chyb?



$$3 + 6 = 8$$

$$5 - 2 = 3$$

$$9 + 0 = 9$$

$$4 + 3 = 5$$



$$4 + 4 = 8$$

$$7 - 3 = 4$$

$$2 + 5 = 6$$

$$1 - 0 = 2$$

ŘEŠENÍ

$$3 + 6 = 9$$

$$5 - 2 = 3$$

$$9 + 0 = 9$$

$$4 + 3 = 7$$

$$4 + 4 = 8$$

$$7 - 3 = 4$$

$$2 + 5 = 7$$

$$1 - 0 = 1$$


Vyber správný počet korun a zakroužkuj je.

9



6

7



8



5



Ok Show tile numbers No. of pairs 5

Hledej příklad a jeho správný výsledek.

Password

1 3+3	1 6	2 4+5	2 9	3 7-4
3 3	4 8-6	4 2	5 9-4	5 5

Delete images

Utvořte příklady z čísel ve sluníčkách (2 na sčítání a 2 na odčítání).



Zdroje informací:

Aplikace SMART Notebook Version 10.0.631.3 17:15:24 Sep 30 2009