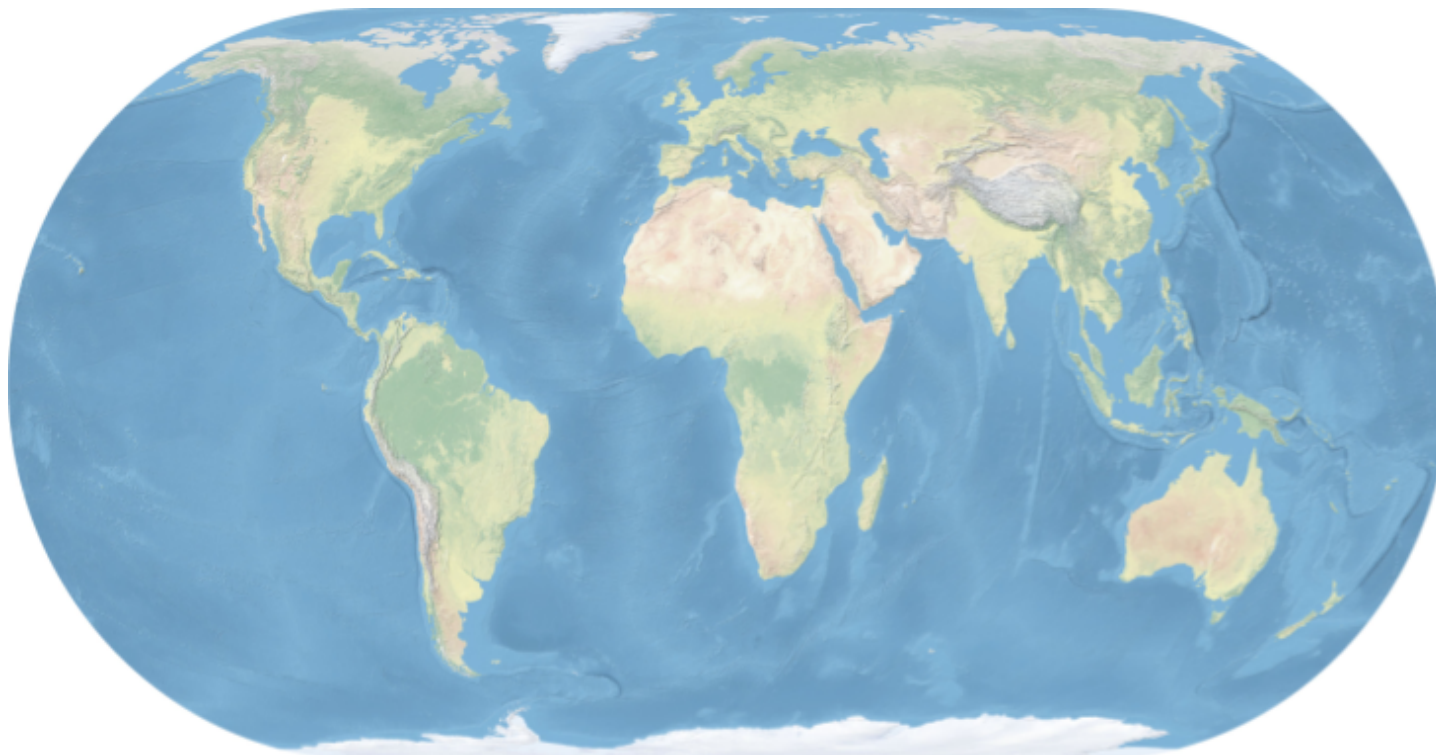




INVESTICE DO ROZVOJE VZDĚLÁVÁNÍ

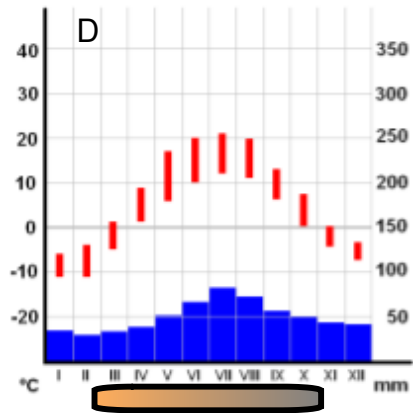
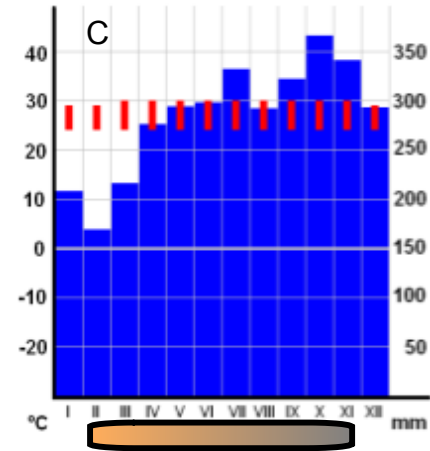
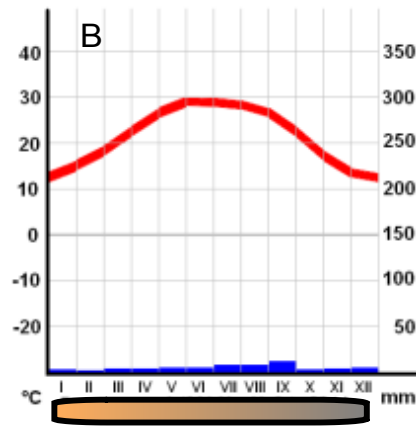
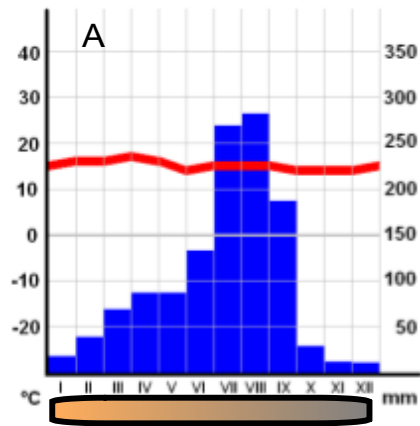
Základní škola T. G. Masaryka, Studénka, ul. 2. května 500, okres Nový Jičín	
Číslo projektu: CZ.1.07/1.4.00/21.1489	Označení vzdělávacího materiálu: VY_32_INOVACE_CAPB.6.03
Autor: Mgr. Tomáš Hradský	Vzdělávací oblast: Člověk a příroda
Předmět: Zeměpis	Ročník: 6.
Téma hodiny: Přírodní krajiny - opakování učiva	
Využití vzdělávacího materiálu: práce s interaktivní tabulí, opakování učiva	
Ověření ve výuce:	
Datum: 20.4.2012	Třída: 6.



Do interaktivní mapy světa zakresli:

- a) oblasti tropických deštných lesů
- b) pouště
- c) oblasti, kde bude po většinu roku teplota pod 0°C
- d) oblasti horských pásem

Podnebí



Otázky ke klimadiagramům:

- Která přírodní krajina se skrývá pod jednotlivými klimadiagramy?
- Popiš počasí v průběhu celého roku u všech klimadiagramů a vzájemně je porovnej.
- Který klimadiagram má nejbližší k České republice?

Úkol: k přírodní krajině přiřaď správné znaky podnebí

horká a suchá léta x deštivé zimy po většinu roku je teplota pod 0°C
většinou prší, je tu vysoká vlhkost a teploty se pohybují kolem 25°C v průběhu celého roku
krajina téměř bez srážek, sucho, vysoké denní teploty střídá se období dešťů a sucha
léto trvá pouze 2-3 měsíce, dlouhá chladná a studená zima

Polární oblasti -

Poušť -

Savana -


Středomoří -

Tundra -


Tropický les -

Fauna

a) během 2 minut napiš do sešitu co možná nejvíce libovolných živočichů.




masožravci




býložravci

Přiřaď živočichy k příslušné přírodní krajině

Tropický deštný les	Savana	Poušť	Step	Tajga	Tundra	Polární oblast





O kterou přírodní krajinu se jedná? Co o ní víš?

Úkol: k přírodní krajině přiřaď pojmy v nabídce

The interface features a top navigation bar with four buttons: "Edit", "Check", "Reset", and "Solve", and a help icon (question mark) in the top right corner. The main area is a 3x2 grid. The columns are labeled "Tundra", "Savana", and "Tropický les". The bottom row contains eight terms in buttons: "anakonda", "traviny", "snih", "zakrsle stromy", "mechy", "baobab", "sob", and "zdroj kyslíku".

Tundra	Savana	Tropický les	
anakonda	traviny	snih	zakrsle stromy
mechy	baobab	sob	zdroj kyslíku

Poznej správny pojem.

Basketball	
Clues	
Bizon	
Prérie	
Antarktida	
Dub korkový	
Chladná zima	
Indiáni	

Zdroje informací a využití aplikace

Aplikace SMART Notebook Version 10.0.631.3 17:15:24 Sep 30 2009

Zdroje obrázků pod licencí:

Creative Commons CC0 1.0 Universal Public Domain Dedication

<http://commons.wikimedia.org/wiki/File:Eckert4.jpg>



The copyright holder of this work, release this work into the public domain.

http://commons.wikimedia.org/wiki/File:German_Climate_Tamanrasset.png



http://commons.wikimedia.org/wiki/File:German_Climate_Addis_Abeba.png



<http://commons.wikimedia.org/wiki/File:ClimateMoscowRussia.PNG>



<http://commons.wikimedia.org/wiki/File:ClimateMajuroMarshallIslands.PNG>

