



## INVESTICE DO ROZVOJE VZDĚLÁVÁNÍ

Základní škola T. G. Masaryka, Studénka, ul. 2. května 500, okres Nový Jičín	
Číslo projektu: CZ.1.07/1.4.00/21.1489	Označení vzdělávacího materiálu: VY_32_INOVACE_CAJSB.4.15
Autor: Andrea Mojžíšová	Vzdělávací oblast: Člověk a jeho svět
Předmět: Člověk a jeho svět	Ročník: 4.
Téma hodiny: Pohoří ČR	
Využití vzdělávacího materiálu: Slepá mapka, třídění a přiřazování informací, kvíz, práce s pojmy	
Ověření ve výuce:	
Datum: 8.3.2012	Třída: 4.

Do mapky dopiš (přičad') naše sousevní státy:



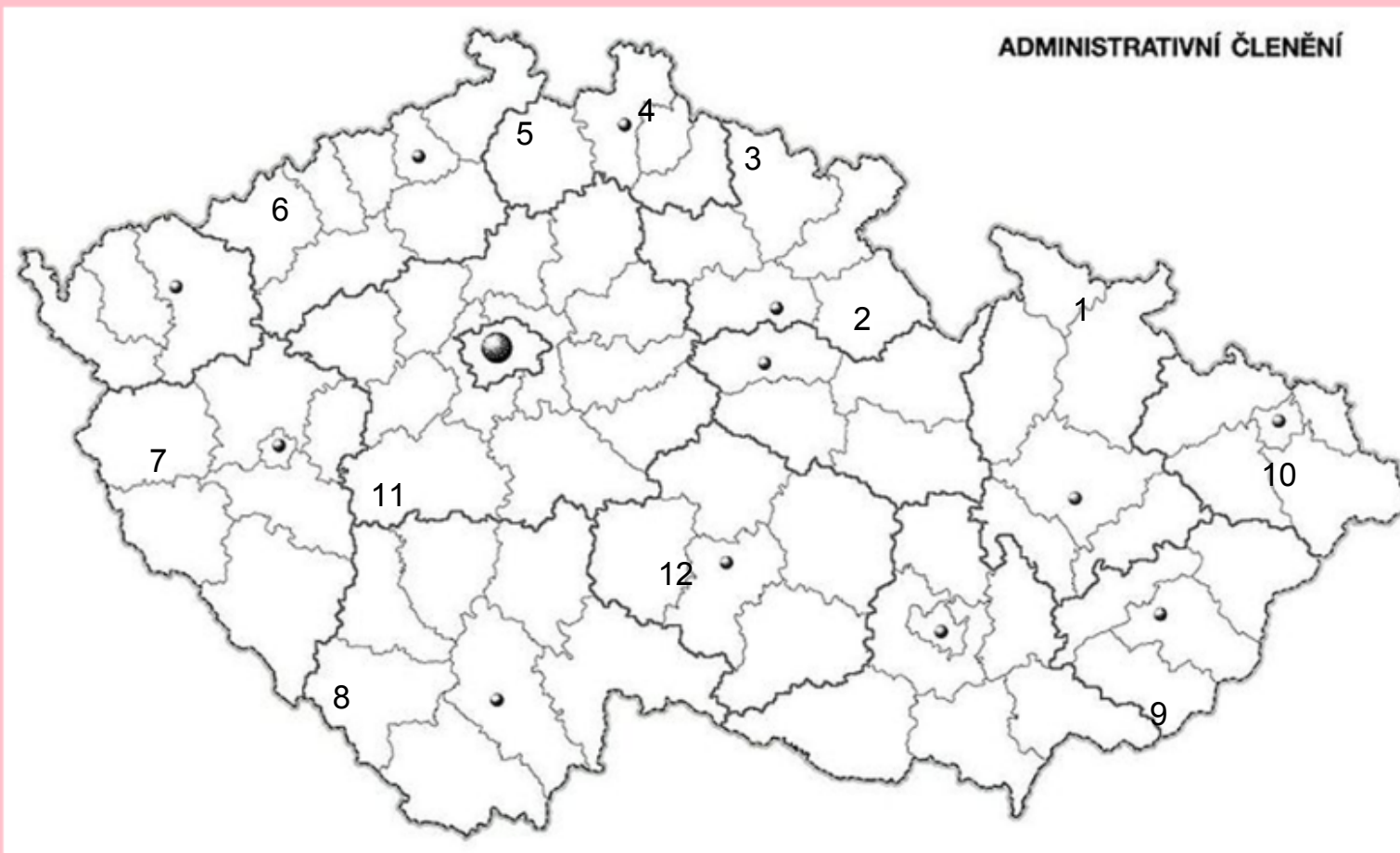
Polsko

Slovensko

Německo

Rakousko

# Pohoří




Dopiš k číslům názvy pohoří.

Žáci mají příruční mapku ČR.

táhnou se kolem hranic.

Nejvyšší horou ČR je Sněžka (1602 m n. m. )  
v Krkonoších.



Přiřaď vrchol ke správnému pohoří.

## VRCHOLY

## POHOŘÍ

Orlické hory -

Krkonoše -

Jizerské hory -

Lužické hory -

Krušné hory -

Český les -

Šumava -

Luž

Sněžka

Velká Deštná

Klínovec

Čerchov

Plechý

Smrk

Ukazuj si na své mapě pohoří a hledej nejvyšší vrcholy.

Jeseníky -

Moravskoslezské Beskydy -

Českomoravská vrchovina -

České středohoří -

Brdy -

Praděd

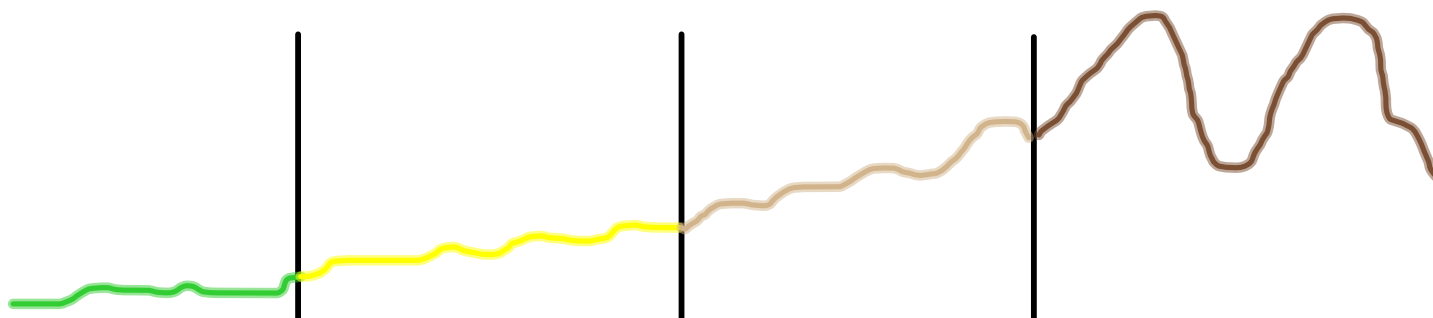
Milešovka

Lysá hora

Tok

Javořice

Čím je pohoří vyšší, tím je hnědá barva na mapě tmavší.



200 - 600 m. n m.

od 900 m. n m.

600 - 900 m. n m.

do 200 m. n m.

hornatina

vrchovina

pahorkatina

rovina

Slož názvy pohoří ČR.

Edit

Reset

83

í k y e n J e s



Vyber správnou odpověď:

Edit

Q.1

Sousední státy ČR jsou:

A Rakousko, Maďarsko, Polsko, Slovensko

B Polsko, Rusko, Německo, Rakousko

C Německo, Polsko, Francie

D Německo, Slovensko, Polsko, Rakousko



Zopakuj si pojmy a vysvětli, co znamenají nebo, kde je najdeme.

## Použité zdroje:

Aplikace SMART Notebook Version 10.0.631.3 17:15:24 Sep 30 2009

[http://commons.wikimedia.org/wiki/Category:Symbols\\_of\\_the\\_Czech\\_Republic](http://commons.wikimedia.org/wiki/Category:Symbols_of_the_Czech_Republic)

