




INVESTICE DO ROZVOJE VZDĚLÁVÁNÍ

Základní škola T. G. Masaryka, Studénka, ul. 2. května 500, okres Nový Jičín	
Číslo projektu: CZ.1.07/1.4.00/21.1489	Označení vzdělávacího materiálu: VY_32_INOVACE_CAJS.5.16
Autor: Eva Kutálková	Vzdělávací oblast: Člověk a jeho svět
Předmět: Člověk a jeho svět	Ročník: pátý
Téma hodiny: Místopis České republiky	
Využití vzdělávacího materiálu: Opakování učiva. Orientace na slepých mapách.	
Ověření ve výuce	
Datum: 13.12.2011	Třída: 5.

Česká republika

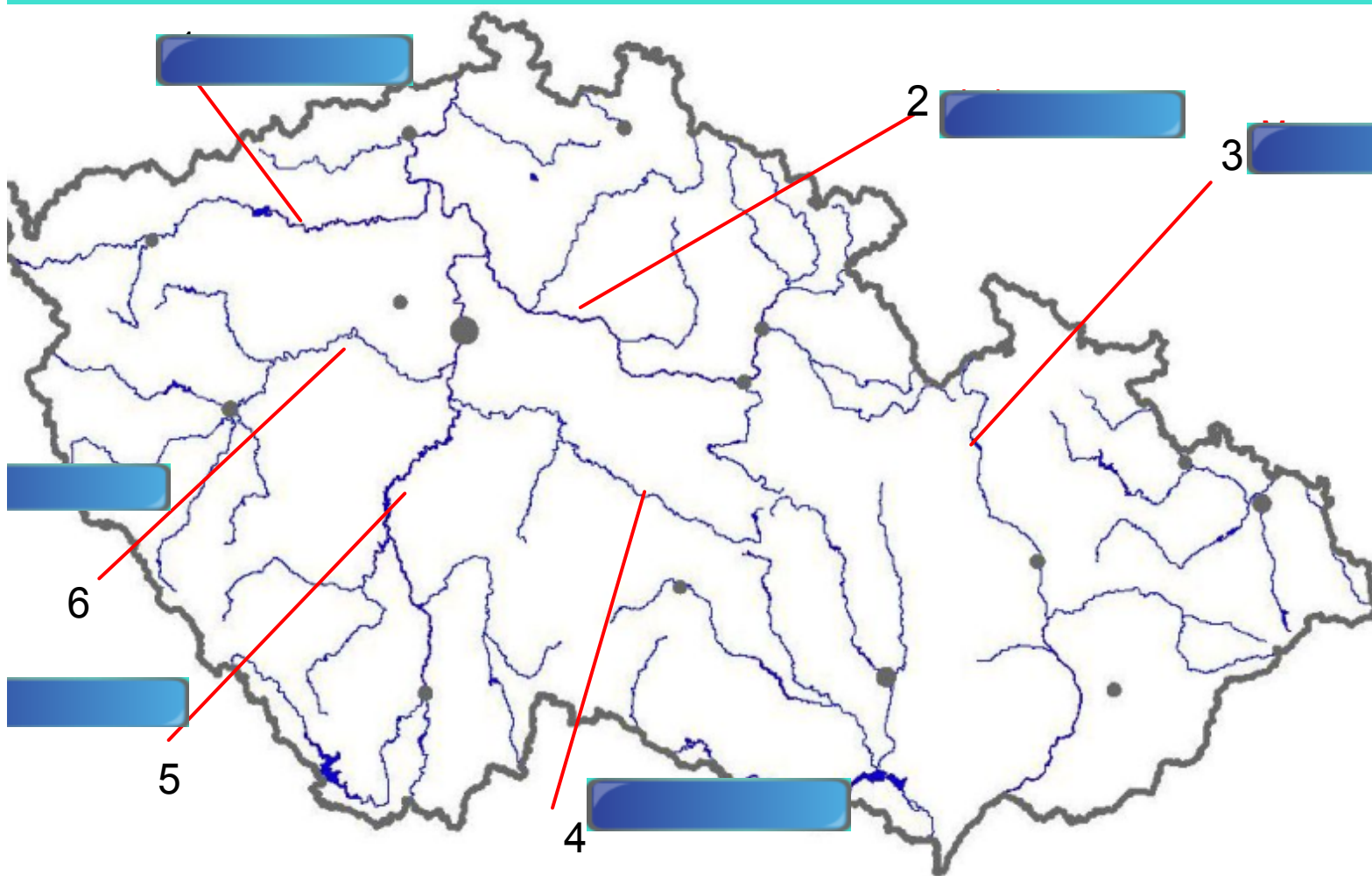


Kraje České republiky



Popiš jednotlivé řeky

Řešení : odkryj modrý proužek



Uspořádej správně názvy českých řek

The interface features a teal border. At the top left, there are two buttons: "Edit" and "Reset". At the top right, there is a circular button with a question mark and a score display showing "0". In the center, four brown circular tiles are arranged horizontally, containing the letters "d", "r", "o", and "a" from left to right. At the bottom left, there is a "Clue" button.

Přiřaď nejvyšší hory k pohořím

Edit Check Reset ?

Word	Description
<input type="text"/>	Plechý <input type="button" value="Hrubý Jeseník"/>
<input type="text"/>	Klinovec <input type="button" value="Orlické hory"/>
<input type="text"/>	Lysá hora <input type="button" value="Jizerské hory"/>
<input type="text"/>	Velká Deštná <input type="button" value="Krušné hory"/>
<input type="text"/>	Sněžka <input type="button" value="Šumava"/>
<input type="text"/>	Praděd <input type="button" value="Krkonoše"/>
<input type="text"/>	Smrk <input type="button" value="České stře ..."/>
<input type="text"/>	Milešovka <input type="button" value="Moravskosl ..."/>

HRA - NAŠE NEJ ...

Ok Number of questions 8 Difficulty Easy

Password Font Arial Timer Speed Fast

Questions	Answers
Která je naše nejdelší řeka ?	Vltava
Který je náš největší rybník ?	Rožmberk
Která je naše nejvyšší hora ?	Sněžka
Která je naše největší přehrada ?	Lipno
Characters abcdefghijklmnopqrstu vwxyz	

Page 2

1.1

Najdi dvojice, kterék sobě patří

The image shows a 3x4 grid of 12 empty yellow cards. Each card has a small blue icon in the top-left corner consisting of two right-pointing chevrons. In the top-left corner of the grid, there is a blue dialog box titled 'SMART'. The dialog box has a close button (a square with a diagonal line) on the left, and 'Ok' and 'Cancel' buttons on the right. The text 'přehrada' is written in blue on the bottom-left card, and 'Nové Mlýny' is written in blue on the bottom-right card.

přehrada

Nové Mlýny



Dovedeš označit stejnými čísly město s řekou, která daným městem protéká ?

1.
2.
3.
4.
5.

Pízeň

Praha

Pardubice

Olomouc

Brno

Labe

Berounka

Morava

Svitava

Vltava

6.
7.
8.
9.
10.

Č. Budějovice

Hradec Králové

Ostrava

Brno

Karlovy Vary

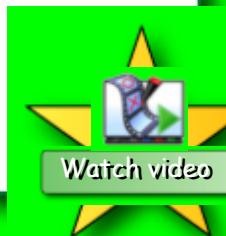
Odra

Svratka

Vltava

Ohře

Labe





Řešení :

1.
2.
3.
4.
5.

Pižeň

Praha

Pardubice

Olomouc

Brno

3.
1.
4.
5.
2.

Labe

Berounka

Morava

Svitava

Vltava

6.
7.
8.
9.
10.

Č.Budějovice

Hradec Králové

Ostrava

Brno

Karlovy Vary

8.
9.
6.
10.
7.

Odra

Svratka

Vltava

Ohře

Labe



Vyznač správně města do slepé mapy

Praha Plzeň České Budějovice Olomouc Ostrava
Ústí nad Labem Brno Hradec Králové Brno Zlín



Použité zdroje :

Aplikace SMART Notebook Version 10.0.631.3 17:15:24 Sep 30 2009

Mapa krajů České republiky- snímek číslo 3:

Obrázek dostupný pod licencí Creative Commons – Ulaam,licence 3.0 Unported

http://upload.wikimedia.org/wikipedia/commons/6/6d/CZ_Cechy_Morava_kraje.gif